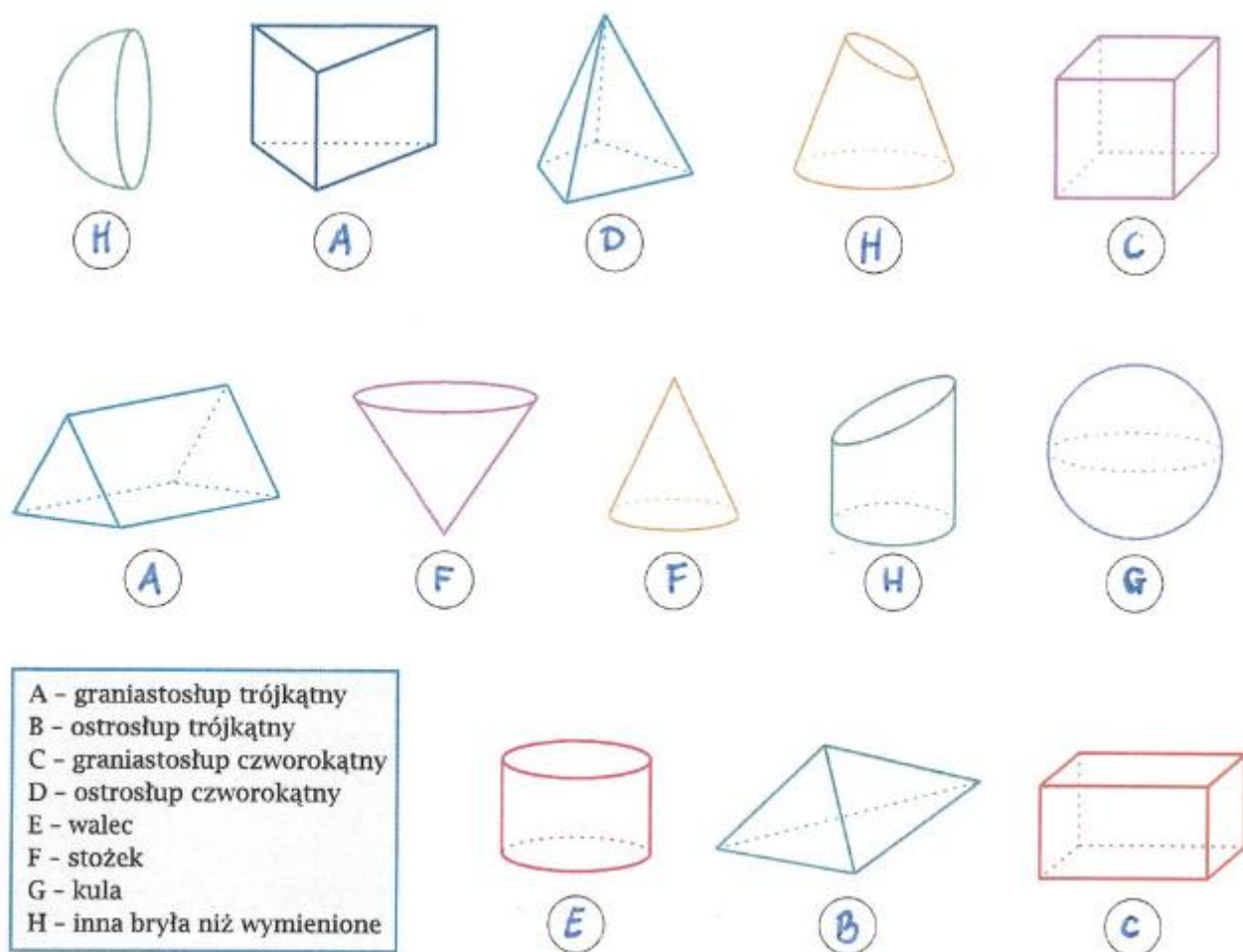


## Rozwiązania zadań z 23.06 (wtorek)

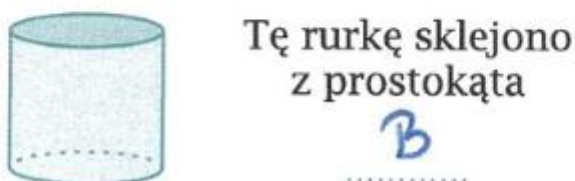
### ćw. 1 str.103



### ćw. 2 str.103

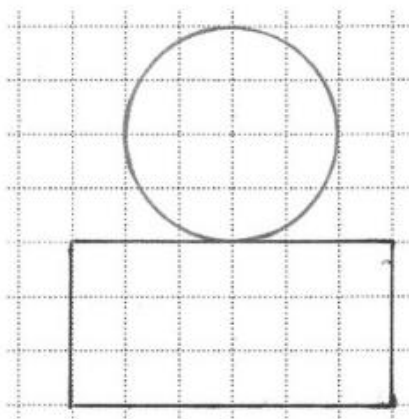
	Graniastosłup	Ostrosłup
liczba widocznych ścian:	3	3
liczba niewidocznych ścian:	5	4
liczba widocznych krawędzi:	11	9
liczba niewidocznych krawędzi:	7	3
liczba widocznych wierzchołków:	9	7
liczba niewidocznych wierzchołków:	3	0

ćw. 3 str.104

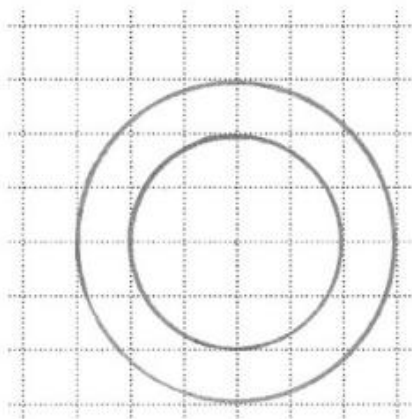


ćw. 4 str.104

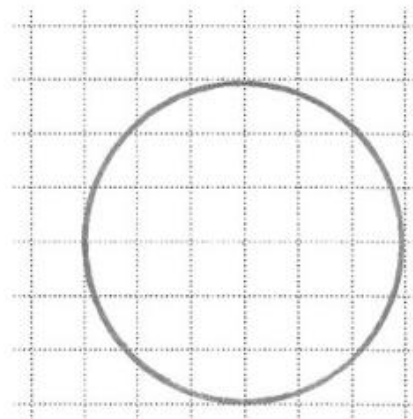
a) widziana z boku,



b) widziana z góry,



c) widziana z dołu.



ćw. 5 str.104

- a) Jaka jest długość nitki zajętej przez nawlezione koraliki? 32 cm
- b) Ile białych koralików zmieści się jeszcze na tej nitce? 6
- c) Ile niebieskich koralików zmieści się jeszcze na tej nitce? 4