



Zadanie 1. Zmierz linijką długość ołówków i zapisz wyniki. Pokoloruj na niebiesko krótszy ołówek (pamiętaj, zaczynamy mierzenie od zera).



cm



cm

Zadanie 2. Do podanych liczb dopisz sąsiadki.

przykład:

15 , 16, 17

		13		

		17		

		16		

		19		


Zadanie 3. Zapisz podane kwoty za pomocą banknotów i monet

17 zł=

13 zł=

20 zł=

Zadanie 4. Zapisz pod każdym zegarem, którą wskazuje godzinę.



Zadanie 5. Oblicz:

$13 + 7 = \dots\dots$

$14 + 4 = \dots\dots$

$20 - 6 = \dots\dots$

$15 + 5 = \dots\dots$

$19 - 8 = \dots\dots$

$16 - 0 = \dots\dots$

$17 - 5 = \dots\dots$

$14 - 3 = \dots\dots$

$12 + 6 = \dots\dots$

$13 - 2 = \dots\dots$

$20 - 7 = \dots\dots$


$18 - 4 = \dots\dots$

$12 + 5 = \dots\dots$

$15 + 3 = \dots\dots$

$17 + 2 = \dots\dots$

Zadanie 6. Ela i Iwonka zrobiły zakupy. Każda kupiła po dwie rzeczy. Oblicz, ile zapłaciły. Otocz pętlą tę dziewczynkę, która zapłaciła więcej.



Ela zapłaciła.....

Iwonka zapłaciła.....

Zadanie 7. Za pomocą strzałek przenieś paczki tak, by na każdym samochodzie w jednym rzędzie była taka sama waga.

