

# Temat: Urbanizacja w Ameryce

Zapisz temat w zeszycie.



# 1. Cel zajęć:

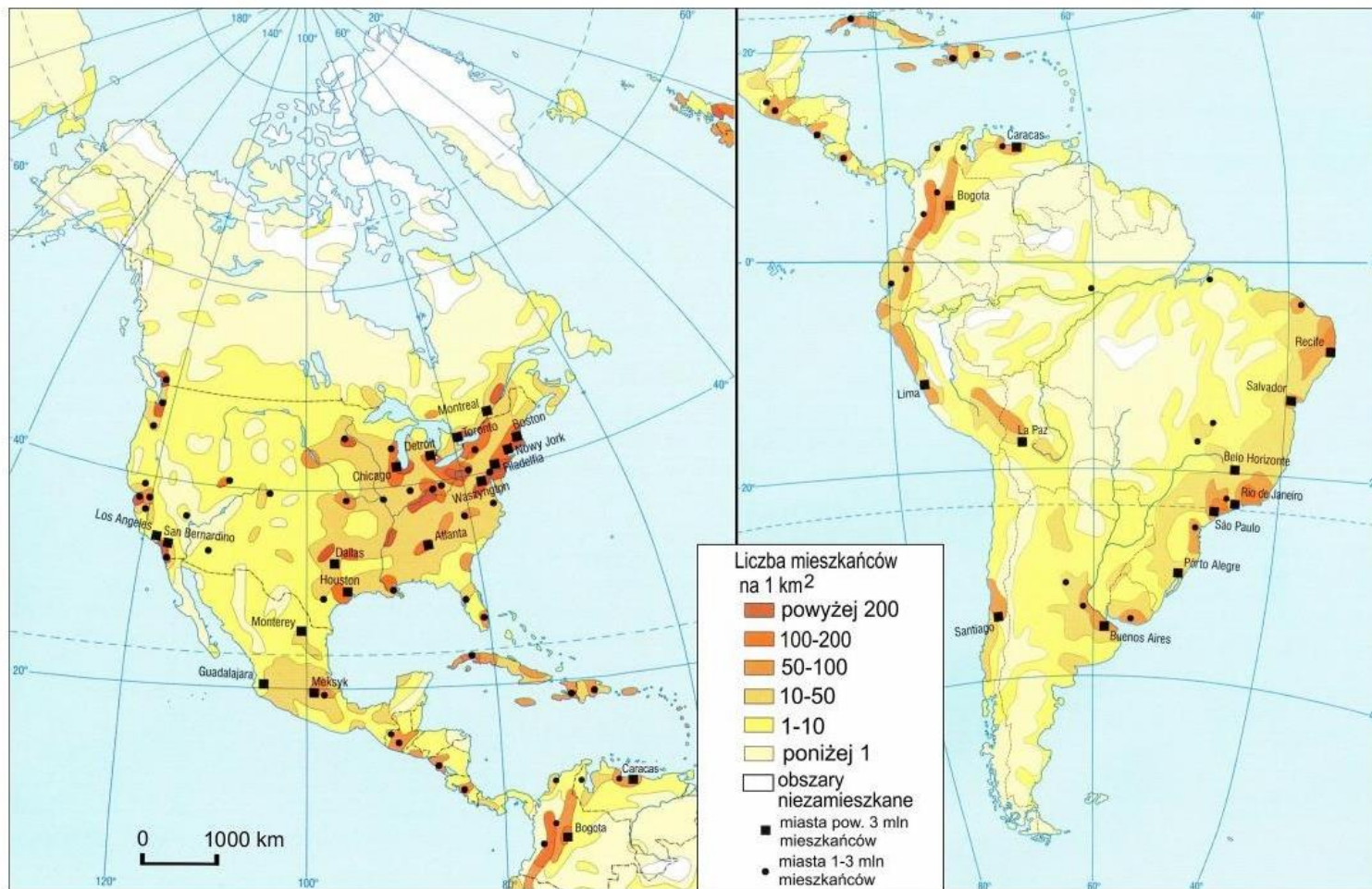
---

- określisz cechy megalopolis w Ameryce Północnej,
- wyjaśnisz przyczyny powstawania slumsów w wielkich miastach na przykładzie Ameryki Południowej.



To zdjęcie, autor: Nieznany autor, licencja: CC BY-SA

## 2. Rozmieszczenie ludności Ameryki

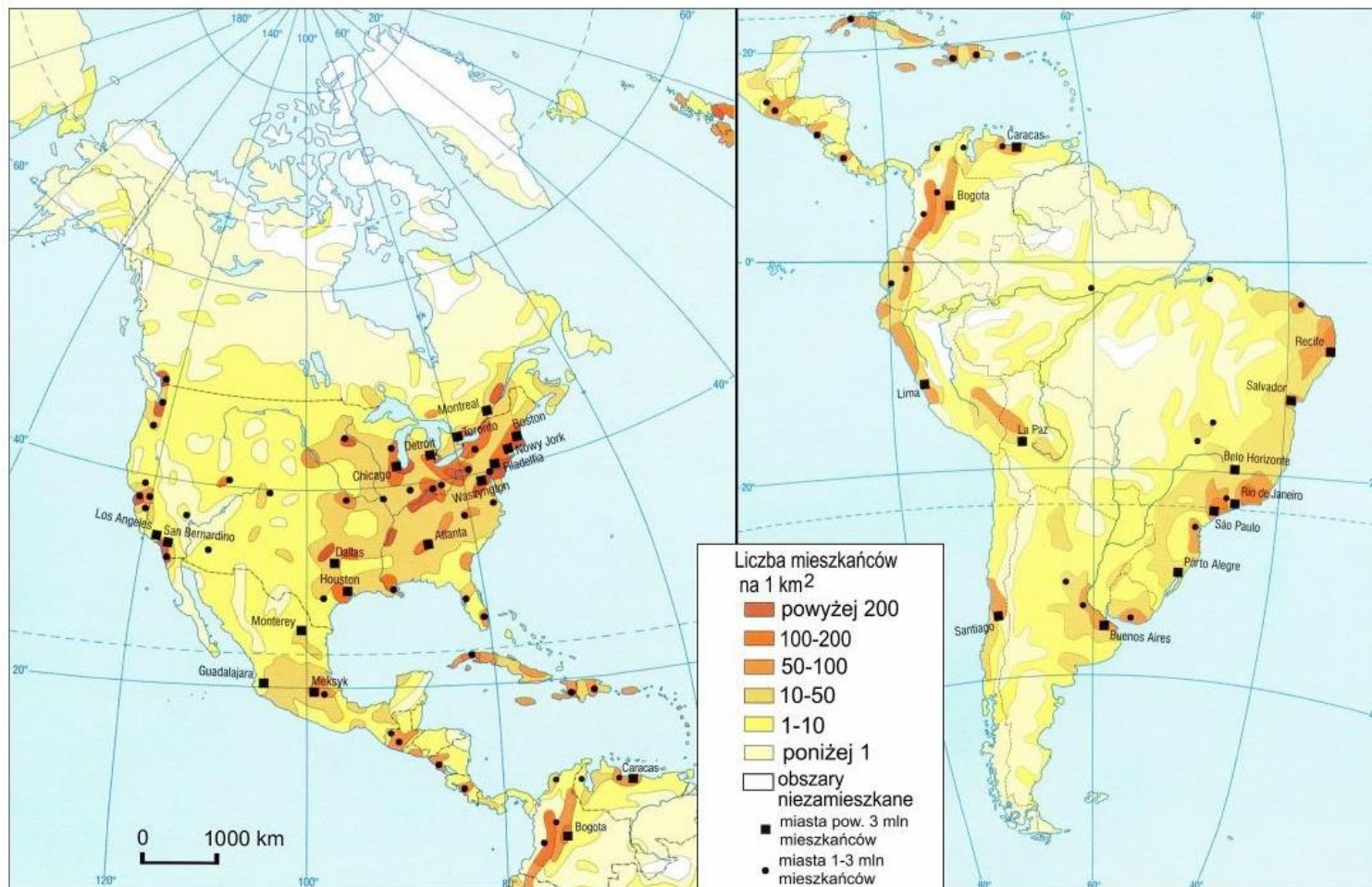


Na podstawie: *Ilustrowany atlas świata*, zeszyty 16. i 20.

← Przyjrzyj się mapie (*masz taką w podręczniku str. 127*).

Im **ciemniejszy kolor**, tym liczba osób mieszkająca na km<sup>2</sup> powierzchni jest większa.

### 3. Rozmieszczenie ludności Ameryki



Na podstawie: *Ilustrowany atlas świata*, zeszyty 16. i 20.

ZAPISZ DO ZESZYTU JAKO  
PUNKT 1 ODPOWIEDŹ  
NA PYTANIE:



Gdzie znajdują się najstąbiej zaludnione obszary Ameryki?



*Podpowiedź masz w tekście podręcznika na stronie 127.*



To zdjęcie, autor: Nieznany autor, licencja: [CC BY-SA](#)



To zdjęcie, autor: Nieznany autor, licencja: [CC BY-SA](#)



To zdjęcie, autor: Nieznany autor, licencja: [CC BY](#)



To zdjęcie, autor: Nieznany autor, licencja: [CC BY-SA](#)

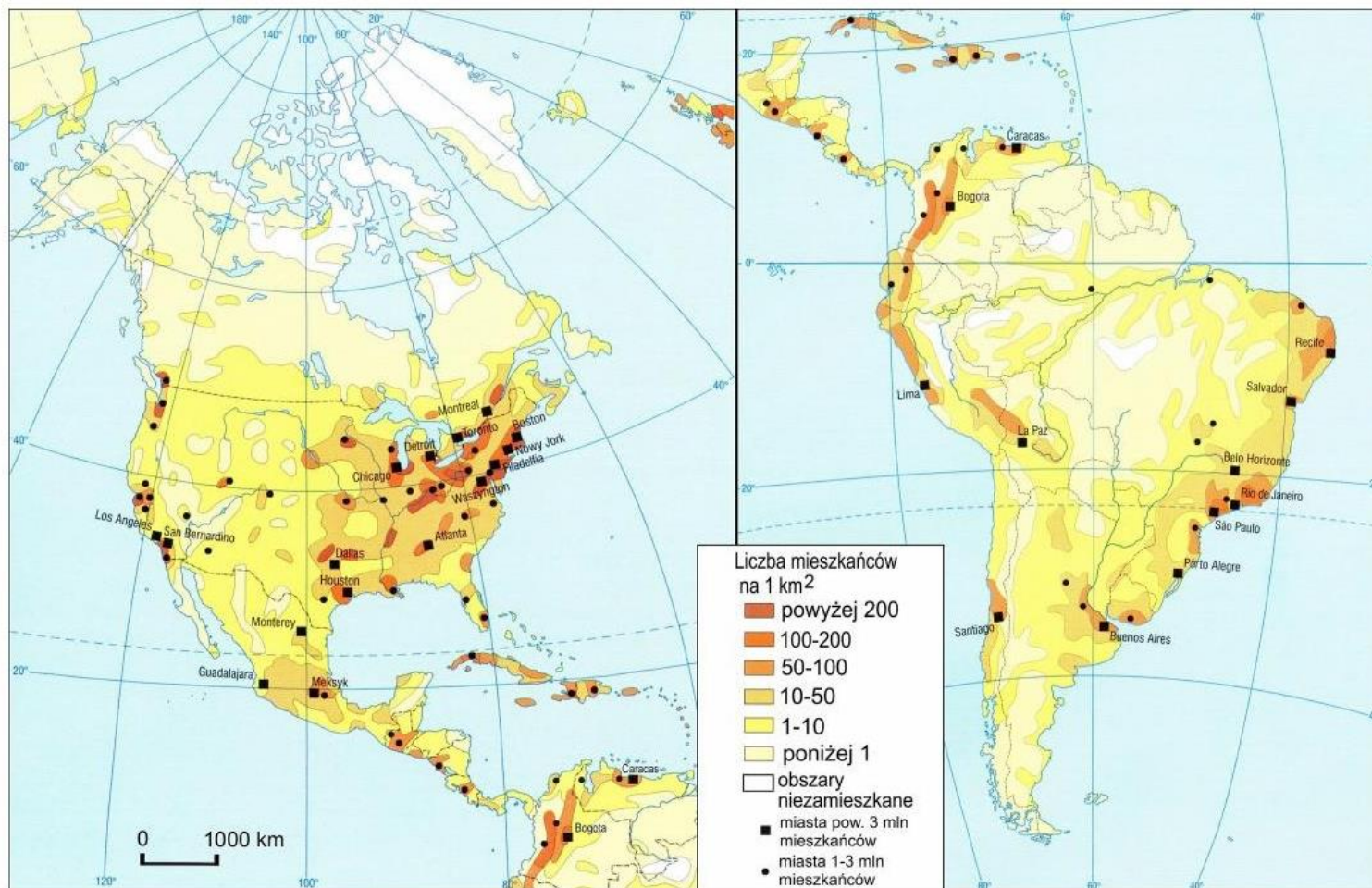


To zdjęcie, autor: Nieznany autor, licencja: [CC BY-SA](#)

Kilka zdjęć słabo zaludnionych miejsc Ameryki

---

# 4. Rozmieszczenie ludności Ameryki



Na podstawie: *Ilustrowany atlas świata*, zeszyty 16. i 20.

ZAPISZ DO ZESZYTU JAKO  
PUNKT 2 ODPOWIEDŹ  
NA PYTANIE:



Gdzie znajdują się  
najliczniejsze skupiska  
ludności w Ameryce?



*Podpowiedź masz w tekście  
podręcznika na stronie 126.*




To zdjęcie, autor: Nieznany autor, licencja: [CC BY-SA](#)



To zdjęcie, autor: Nieznany autor, licencja: [CC BY-SA](#)



To zdjęcie, autor: Nieznany autor, licencja: [CC BY-SA](#)



To zdjęcie, autor: Nieznany autor, licencja: [CC BY-SA](#)



To zdjęcie, autor: Nieznany autor, licencja: [CC BY-SA](#)

Kilka zdjęć gęsto zaludnionych miejsc Ameryki

---

5. Co wpływa na  
NIERÓWNOMIERNE  
rozmieszczenie  
ludności Ameryki?



czynniki przyrodnicze (klimat,  
gleba, ukształtowanie  
powierzchni),



historia osiedlania się,



poziom rozwoju gospodarczego  
poszczególnych regionów.



## 6. Przypomnienie z klasy 7 – co to URBANIZACJA?

- Proces prowadzący do

powstawania nowych miast

rozwoju miast istniejących


wzrost liczby ludności miejskiej

ZAPISZ DEFINICJĘ URBANIZACJI  
DO ZESZYTU JAKO  
PUNKT 3.




# 7. Wskaźnik urbanizacji Ameryki = Czyli jak wielu ludzi mieszka w mieście ?

- Wskaźnik urbanizacji obu Ameryk wynosi 80%, czyli 8 na 10 osób mieszka w mieście. To bardzo dużo.
- W porównaniu w Polsce wynosi ok. 60%.



## Udział mieszkańców miast w ogólnej liczbie ludności



8. Najwyższy wskaźnik urbanizacji (ponad 90%) jest w państwach takich jak:

---

- Urugwaj
- Brazylia
- Argentyna



## 9. Megamiasta

---

Napływ ludności do miast powoduj powstanie  
MIAST-GIGANTÓW.

---

Noszą one nazwę AGLOMERACJI.

---

W Ameryce mamy 6 takich zespołów miejskich.

---

W każdej z nich mieszka ponad 10 milionów osób!

---


Są to: Meksyk, Nowy Jork, Los Angeles, Sao Paulo, Rio de Janeiro,  
Buenos Aires



# 10. Kiedy powstaje MEGALOPOLIS?



- Kiedy nasza AGLOMERACJA (zespół miast lub megamiasto) się rozrasta i blisko niej jest druga duża aglomeracja, która też się rozrasta to w pewnym momencie dochodzi do ich połączenia.
- Jak miasto może się „rozrastać”???
- Zobacz obrazek →



# 11. Megalopolis

A. Jest to skupisko wielkich aglomeracji miejskich.

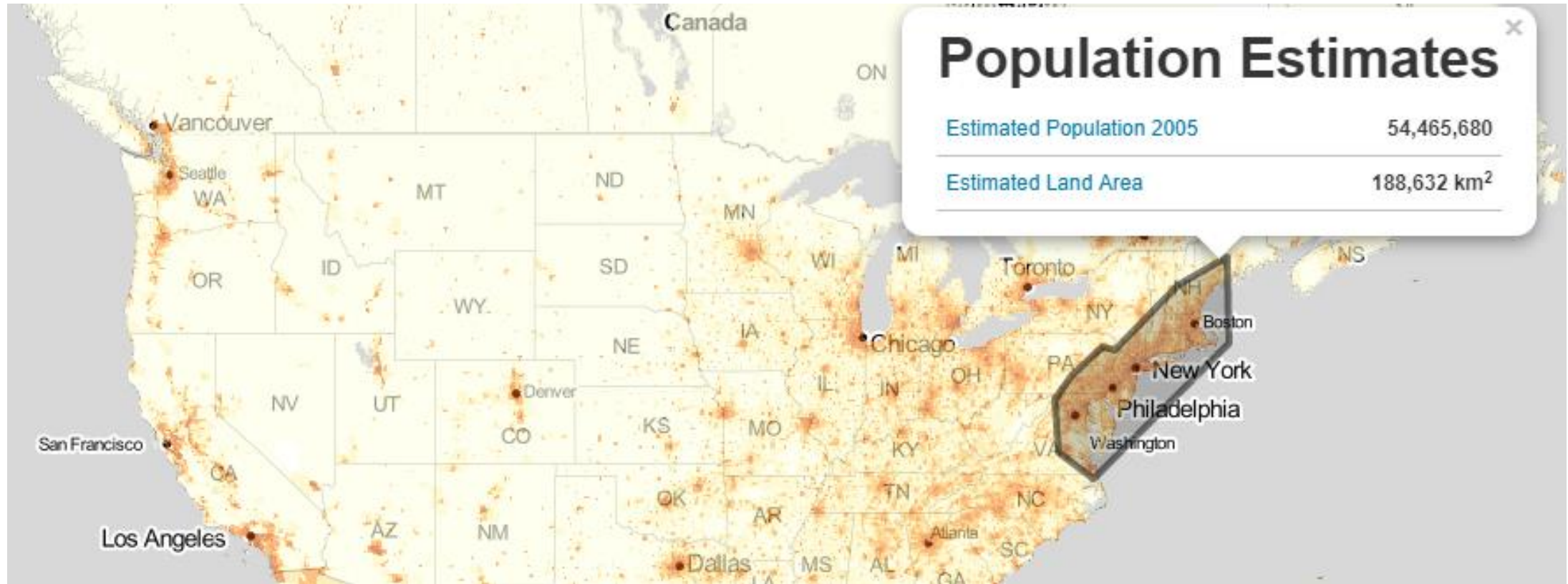
B. Odznaczają się one:

- liczbą ludności liczoną w dziesiątkach milionów,
- gęstą siecią komunikacyjną (autostrady, metra, pociągi, lotniska itp.),
- występowaniem drapaczy chmur w centrum.

C. przykłady megalopolis: brazylijskie, BosWash, ChiPitts.

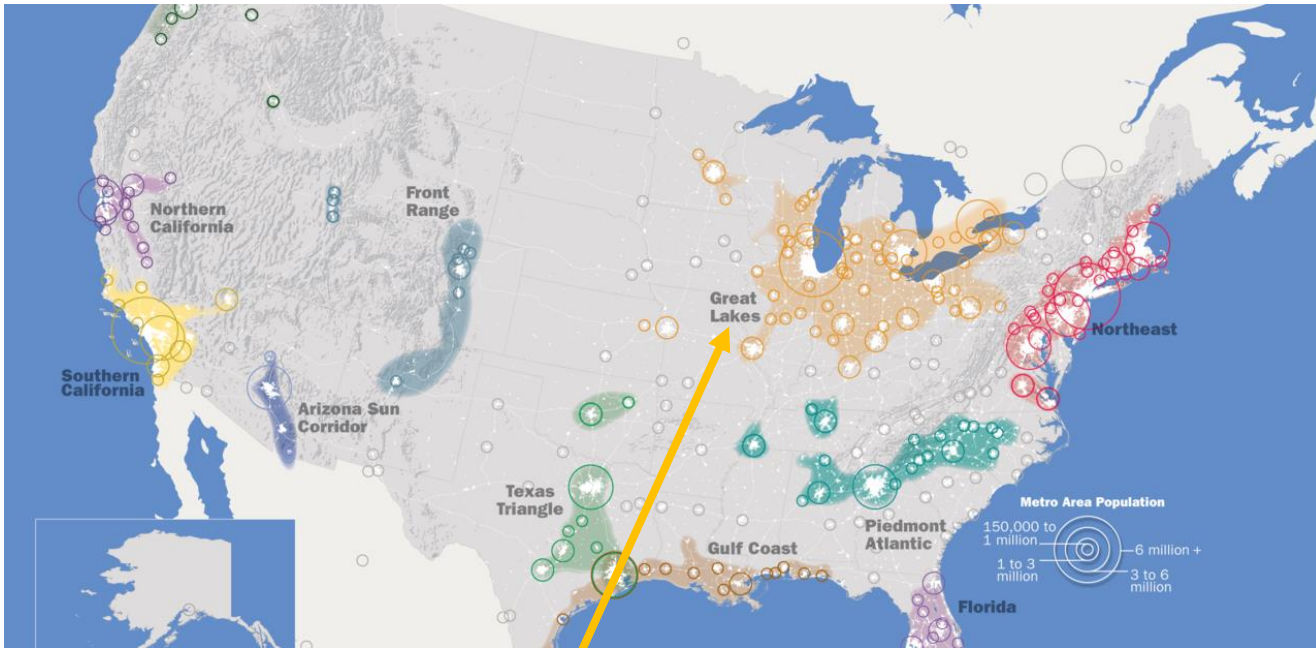
ZAPISZ DEFINICJĘ  
MEGALOPOLIS DO ZESZYTU  
JAKO  
PUNKT 4 a b c.





## 12. Przykłady megalopolis - BosWash (czytaj:bosłosz ;)

- w jego skład wchodzi Boston, Waszyngton i Nowy Jork (stąd nazwa) oraz Hartford, Albany, Newark, Filadelfia, Baltimore i kilka mniejszych.
- długość: 100 km
- ludność: 50 mln



12. Przykłady megalopolis - ChiPitts (czytaj:czipits ;)

- w jego skład wchodzi, Detroit, Pittsburgh i CHICAGO (najbardziej polska aglomeracja w USA – ponad 820 tys. Polonii)
- ludność: 30 mln







13. Przykłady  
megalopolis –  
Megalopolis  
Brazylijskie

- Sao Paulo + Rio de Janeiro
- ludność: 30 mln



# 14. Miasta a bieda

---

- Duża część mieszkańców miast w krajach rozwijających się ma niewielkie dochody.
- Część przybywa do miast, nie mając żadnych środków do życia. Dlatego wyszukują rejony miasta nieatrakcyjne dla innych i próbują tam zamieszkać.
- W miarę upływu czasu, miejsca te rozrastają się do rozmiarów osiedli i dzielnic.
- Zwykle nazywa je się **slumsami**, a w Ameryce Łacińskiej o **fawelach**.



To zdjęcie, autor: Nieznany autor, licencja: CC BY



15. Jak wyglądają fawełe?

<https://vod.tvp.pl/video/magazy ny,halo-tu-rio-jak-zmienily-sie-brazylijskie-fawele,26550140>

*Filmik dla chętnych* ↑

16. Na podstawie prezentacji, podręcznika (s.129), filmu (jeśli oglądałeś) zapisz do zeszytu punkt 5.

Wymień przyczyny powstawania slumsów w wielkich miastach na przykładzie Ameryki Południowej.

